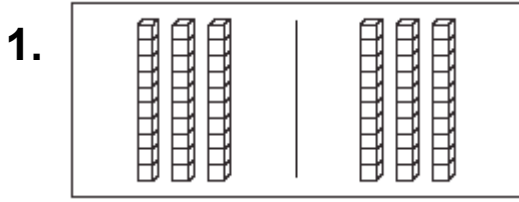


4-3 英文姓名: _____

中文姓名: _____

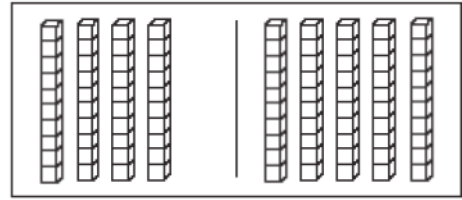
10的加法

看图，写数字完成加法。



3 个十 + 3 个十 = 6 个十

30 + 30 = 60



 个十 + 个十 = 个十

 + =

写出正确的数字。

2. $50 + 20 =$ _____

3. $30 + 40 =$ _____

4. $20 + 30 =$ _____

5. $70 + 20 =$ _____

6. $60 + 30 =$ _____

7. $10 + 80 =$ _____

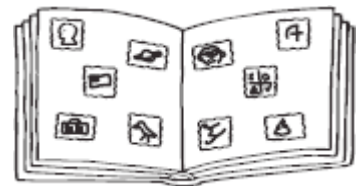
数字概念

8. David 有两本集邮簿。

第一本有50张邮票。

其他的有30张。

David 一共有几张邮票? $50+30=$ _____



(A) 20

(B) 70

(C) 80

(D) 90